

Проверочные работы по окружающему миру 4 класс
Проверочная работа по теме «Земля и человечество».
1 вариант

1. Астрономия – это наука о
2. Солнечную систему составляют
3. Перечисли планеты в порядке их удаления от Солнца.
4. Какова причина смены дня и ночи?
5. Напиши названия нескольких созвездий.
6. С точки зрения географа, мир – это
7. Какая карта более точно передает форму Земли?
8. История изучает
9. Распредели (при помощи стрелочек) исторические источники по группам:
монеты устные летописи
пословицы указы
украшения письменные посуда
сказка легенды
грамоты вещественные орудия труда
10. Что такое архив?
А) коллекция старинных предметов; б) хранилище документов; в) собрание книг.
11. Когда появились на Руси летописи?
12. Какими цифрами принято обозначать годы:
а) арабскими; б) римскими; в) китайскими.
13. Укажи римскими цифрами, к какому веку принадлежит год.
1240 г. - _____; 988 г. - _____; 1147 г. - _____; 1918 г. - _____
14. С точки зрения эколога, мир – это

2 вариант

1. С точки зрения астронома, мир – это
2. Солнце и движущиеся вокруг него тела составляют
3. Перечисли планеты в порядке их удаления от Солнца
4. Какова причина смены времён года
5. Напиши названия нескольких созвездий.
6. География изучает
7. На какой карте можно увидеть границы и столицы всех стран мира?
8. С точки зрения историка, мир – это
9. Распредели (при помощи стрелочек) исторические источники по группам:
летописи устные украшения
легенды указы
монеты письменные грамоты
орудия труда пословицы
посуда вещественные сказки
10. Предметы старины хранятся :
а) в библиотеках; б) в музеях; в) на складах.
11. Кто открыл первый в России музей?
12. Какими цифрами принято обозначать века:
а) арабскими; б) римскими; в) китайскими.
13. Укажи римскими цифрами, к какому веку принадлежит год.
1147 г. - _____; 960 г. - _____; 1799 г. - _____; 1954 г. - _____
14. Экологическая проблема – это

Итоговый тест по окружающему миру за 1 четверть.

(ФИ, класс) _____

ЧАСТЬ 1

Первая часть состоит из тестовых заданий, в которых нужно выбрать один вариант ответа. Каждый правильный ответ оценивается в 1 балл.

1. Что такое астрономия?
а) звезда; в) прибор наблюдения за звездами;
б) наука о небесных, или космических телах; г) закон.
2. Какой космический объект самый большой?
а) Вселенная; в) Земля;
б) Солнце; г) Луна
3. Какая планета Солнечной системы самая маленькая?
а) Меркурий; в) Нептун;
б) Земля; г) Юпитер.
4. Название какой звезды означает «блестящий», «сверкающий»?
а) Полярной; в) Сириуса;
б) Альдебарана; г) Альтаира.
5. Укажи символ Всемирного фонда дикой природы
а) hello_html_4492c7ad.jpg б) hello_html_4abf530b.jpg в) hello_html_m22f0477.png г) hello_html_489c7b83.jpg
6. Что такое Всемирное природное наследие?
а) это то, что создала природа; в) это то, что создано руками человека;
б) это то, что создал человек вместе с природой; г) это храм Абу-Симбел.
7. Какая равнина раскинулась от западных границ России до Уральских гор?
а) Приволжская; в) Западно – Сибирская;
б) Восточно – Европейская; г) Среднесибирское плоскогорье
8. Какое озеро называют морем?
а) Байкал; в) Ладожское;
б) Онежское; г) Каспийское
9. Какая природная зона является промежуточной?
а) зона тундры; в) зона арктических пустынь;
б) зона тайги; г) зона лесостепи.
10. Где расположена зона арктических пустынь?
а) в тропическом поясе; в) на экваторе;
б) в умеренном поясе; г) в полярном поясе.

Часть 2

Во второй части вам необходимо выполнить задания на соответствие, а также задания с множественным выбором. Каждый правильный ответ оценивается в 2 балла.

1. Соедини линиями животных и соответствующие им природные зоны:
2) Дуб
3) Зона тайги
4) Песец
3) Зона тундры
4) Бурундук
4) Зона смешанных и широколиственных лесов
2. Соедини линиями животных и соответствующий им вид:
Летяга птица
Бурундук хищник
Кедровка мелкий грузын
Соболь мелкий грызун (родственница белки)
3. Подчеркни деревья, которые растут в смешанных и широколиственных лесах.

Дуб, вяз, липа, карликовая береза, ясень, полярная ива, клен, морошка.

4. Какие редкие животные взяты под особую охрану, подчеркни их.

Кречет, белый медведь, белый журавль, краснозобая казарка, тюлень, тундровый лебедь, кайра.

Часть 3

В третьей части нужно дополнить предложение.

Каждый правильный ответ оценивается в 3 балла.

Наука о Земле, это _____.

Материки, острова, моря, озера и т.д. являются

_____.

Наука, которая изучает прошлое, называется _____.

События, случившиеся позднее даты рождения Иисуса Христа, относятся к

_____.

Часть 4

В четвертой части надо дать развернутый ответ на вопрос. Задание оценивается в 5 балла.

Вариант 1. Карта помощница.

Вариант 2. Озеро Байкал.

Вариант 3. Экологические проблемы (краткое описание 3 экологических проблем).

Вариант 4. Международная Красная книга.

Проверочная работа по теме «Природа России».

1 вариант

1. На каком материке располагается Россия?
 - а) Австралия
 - б) Евразия
 - в) Южная Америка
2. Россия – страна огромных равнин и величественных гор. Какая из крупнейших равнин самая плоская и низкая, поэтому на ней много болот?
 - А) Восточно-Европейская (Русская),
 - Б) Западно-Сибирская,
 - В) Средне-Сибирская
3. Какое озеро называют морем?
 - 1) Байкал
 - 2) Каспийское
 - 3) Ладожское
 - 4) Онежское
4. Моря каких океанов омывают берега России?
 - 1) Атлантического
 - 2) Индийского
 - 3) Северно-Ледовитого
 - 4) Тихого
5. Для какой природной зоны характерны следующие признаки: Короткое лето, земля оттаивает на полметра в глубину, вода не впитывается, там много болот, растения стелются по земле.
 - 1) арктические пустыни 2) лесная зона 3) тундра
6. Какая из этих рек находится не в России?
 - 1) Енисей 2) Волга 3) Амур 4) Амазонка
7. Какие типы лесов встречаются в зоне лесов?
 - 1) лиственные 3) тропические
 - 2) хвойные 4) смешанные
8. Какое дерево не относится к хвойным?
 - 1) кедровая сосна
 - 2) ясень
 - 3) лиственница
 - 4) пихта
9. Какие горы протянулись через всю страну с севера на юг?
 - А) Кавказские
 - Б) Алтайские
 - В) Уральские
10. Какая равнина раскинулась от западных границ России до Уральских гор?
 - 1) Среднесибирское плоскогорье 2) Восточно-Европейская
 - 3) Западно – Сибирская 4) Приволжская
11. Природная зона лесов состоит из ...
 - А) пяти частей; Б) двух частей;
 - В) трех частей; В) одной части.
12. Арктический заповедник расположен ...
 - а) на земле Франца Иосифа; б) на Северной земле; в) на острове Врангеля.
13. . Перечисли пять самых крупнейших рек России:
14. Составь экологическую модель пищевых связей и пищевой цепочки животных зоны тайги (Жук усач, ястреб, ель, дятел).
- 15.. Определи природную зону и экологические проблемы, созданные там человеком.

Почва разрушается под колесами вездеходов, вытаптывается оленьими стадами, загрязняется при добыче нефти на нефтепромыслах. Для охраны природы создан заповедник «Таймырский».

16. Подпиши природные зоны России.



2 вариант

1. Как называется карта, на которой можно увидеть реки, моря, горы, равнины?

- а) политическая карта
- б) физическая карта
- в) историческая карта

2. Где расположена зона арктических пустынь?

- 1) в тропическом поясе
- 2) в умеренном поясе
- 3) на экваторе
- 4) в полярном поясе

3. Воды какого океана не омывают берега России?

- 1) Северного Ледовитого
- 2) Индийского
- 3) Тихого
- 4) Атлантического

4. Восточно – Европейская равнина – это...

- 1) холмистая равнина;
- 2) плоская равнина

5. Какая из этих рек находится не в России?

- 1) Енисей
- 2) Нил
- 3) Лена
- 4) Волга

6. Какие горы России самые высокие?

- 1) Алтай
- 2) Кавказские
- 3) Уральские
- 4) Саяны

7. Море Тихого океана на территории России – это ...

- 1) Японское море;
- 2) Балтийское море;
- 3) Черное море.
- 4) Баренцево море

8. Природная зона лесов состоит из ...

- 1) пяти частей;
- 2) трех частей;
- 3) двух частей;
- 3) одной части

9. Природные зоны России. Перечисли последовательную смену природных зон России с севера на юг.

А) Широколиственные леса. Б) Тайга. В) Смешанные леса Д) Тундра. Ж) Арктические пустыни. К) Лесотундра.

10. Какое дерево не растёт в тайге?

1) лиственница 2) кедр 3) дуб 4) пихта

11. Какие животные обитают в Арктике? Обведи буквы правильных ответов.

1) белые медведи;

2) нутрии;

3) моржи;

4) лоси;

5) тюлени.

12. По явным фактам определи природную зону.

Эта зона занимает больше половины территории России. Здесь выпадает довольно много осадков. Для роста и развития растений достаточно не только тепла, но и влаги. Почвы здесь богаты питательными веществами.

1) зона тундры

2) зона лесов

3) зона степей

4) Арктика (Крайний Север)

13. На территории зоны лесов расположен заповедник:

А) Таймырский;

Б) Кандалакшский;

В) Приокско – Террасный;

14. Составь экологическую модель пищевых связей и пищевой цепочки зоны тундры. (лемминги, растения, полярные совы)

15. Определи природную зону и экологические проблемы, созданные там человеком. Браконьеры охотились на белых медведей и моржей, в результате численность этих животных резко сократилась. Сейчас создан заповедник «Остров Врангеля».

16. Подпиши природные зоны России.



Контрольная работа за 1 полугодие

1. Что такое астрономия?
 1. наука о веществах
 2. наука о Вселенной
 3. наука о живой природе

2. Что такое архив?
 1. хранилище документов
 2. коллекция старинных предметов
 3. собрание книг

3. Определи век 1147 год _____, 1703 год _____

4. Что такое WWF:
 1. Всемирный фонд дикой природы
 2. Международный союз охраны природы
 3. Международный союз охраны птиц

5. Что НЕ относится к Всемирному наследию?
 1. Озеро Байкал
 2. Таймырский заповедник
 3. Тадж-Махал

6. Самые высокие горы России:
 1. Кавказские горы
 2. Уральские горы
 3. Вулканы Камчатки

7. Самое глубокое озеро России:
 1. Ладожское
 2. Каспийское
 3. Байкал
 4. Онежское

8. Отметь признаки приспособленности белого медведя к условиям жизни в Арктике.
 1. Ноги, превратившиеся в лапы
 2. Густая длинная шерсть
 3. Белый цвет меха
 4. Мощные клыки, похожие на сабли

9. Дополни звенья в цепи питания.
осина - _____ - _____

10. Отметь только мероприятия по охране природы.
 1. Заготовка древесины
 2. Посадка лесов
 3. Запрещение охоты на лесных животных
 1. Браконьерство
 2. Создание заповедников
 - 3.

11. Приведи примеры растений и животных степи.

12. Углубление на поверхности земли с пологими, поросшими растениями склонами, называются:

1. карьер
2. овраг
3. балка

13. Отметь свойство железной руды.

1. горючесть
2. пластичность
3. плавкость

14. В каком ряду перечислены только полезные ископаемые, используемые в качестве топлива?

1. гранит, нефть, железная руда
2. торф, природный газ, каменный уголь
3. каменный уголь, глина, нефть

15. Узнай по описанию. Эта почва - самая плодородная. Она особенно богата перегноем, который придает ей темный или даже чёрный цвет.

16. В каком ряду ярусы леса перечислены в правильном порядке (сверху вниз)

1. деревья; мхи и лишайники; кустарнички и травы; кустарники
2. деревья; кустарники; мхи и лишайники; кустарнички и травы
3. деревья; кустарника; кустарнички и травы; мхи и лишайники

17. Какие экологические проблемы тебе известны? _____

Проверочная работа по теме «Родной край – часть большой страны».

1. Поверхность суши бывает...
 - а) равнинной и гористой; б) низменной; в) возвышенной.
2. Овраг - это...
 - а) углубление с крутыми, осыпающимися склонами, на которых нет растений;
 - б) углубление с пологими, поросшими растениями склонами;
3. Место, где добывали песок, глину или уголь называется:
 - а) балка; б) карьер; в) яма.
4. Углубление с пологими, поросшими растениями склонами называется...
 - а) овраг; б) балка; в) карьер.
5. Природные зоны России расположены так:
 - а) тундра, арктическая зона, зона лесов; б) арктическая зона, зона лесов, тундра;
 - в) арктическая зона, тундра, зона лесов.
6. В тундре...
 - а) ярко выражены все четыре времени года, одинаковые по продолжительности;
 - б) длинная суровая зима и жаркое лето;
 - в) длинная суровая зима и короткое прохладное лето.
7. Растения тундры...
 - а) высокие с мощными корнями и широкими листьями;
 - б) низкорослые со стелющимися корнями и мелкими листьями.
8. Какая из цепей питания характерна для степи:
 - а) ежевика —> лемминг —> песец;
 - б) водоросли —> рачки -> сайка -> гагарка
 - в) зерно —> суслик —> орел-беркут
9. Какое животное не является жителем пустыни?
 - а) сайгак
 - б) соболь
 - в) верблюд
 - г) тушканчик
10. Животные пустыни...
 - а) в основном, некрупные, низкорослые, имеют защитный желтый окрас, быстро передвигаются, чаще ведут ночной образ жизни;
 - б) крупные, имеют подкожный слой жира и густой, длинный мех;
 - в) в основном, низкорослые (грызуны), и птицы.
11. Какое растение не прикрепляется корнями ко дну водоема?
 - а) Стрелолист б) Ряска в) Кубышка
12. Какое насекомое здесь лишнее?
 - а) колорадский жук б) божья коровка в) жужелица г) златоглазкаНапиши, почему:
13. Какой водоем является естественным?
 - а) Канал б) Озеро в) Пруд
14. Какое полезное ископаемое является горючим?
 - а) Уголь б) Глина в) Железная руда
15. Какие почвы самые плодородные?
 - а) Подзолистые б) Луговые в) Черноземные
16. Какое насекомое нельзя встретить на лугу?
 - а) Короеда б) Шмеля в) Навозника
17. Какие деревья растут в зоне широколиственных лесов?
 - А) ель, лиственница б) пихта, сосна в) дуб, клен г) береза, осина
18. Каким свойством обладает железная руда?
 - а) пластичностью б) текучестью в) горючестью г) плавкостью
19. Полезные ископаемые - это:

- а) верхний плодородный слой земли;
 - б) богатства земли, лежащие на её поверхности и глубоко в недрах земли;
 - в) природные богатства земли.
20. Как в лесу произрастают растения?
- а) Все растения одного роста.
 - б) Растения располагаются ярусами.
 - в) В лесу не растут растения.
21. Какое растение относится к ярусу трав и маленьких кустарничков?
- а) орешник; б) брусника; в) береза; г) мох
22. На деревьях в лесу обитает:
- а) полёвка; б) белка; в) кабан.
23. Отметь, какие отрасли не относятся к отрасли растениеводства:
- а) пчеловодство; г) овощеводство;
 - б) полеводство; д) плодоводство;
 - в) животноводство; е) цветоводство.
24. Продолжи цепь питания: сосна – короед - ...
- а) Лесная мышь б) Дятел в) Лось
25. Какие растения можно встретить на лугу?
- а) Деревья б) Кустарники в) Травы
26. Почему крупные животные не живут на лугу?
- а) Для них здесь нет пищи б) Им негде прятаться в) Им мешают насекомые
27. От какого животного человек не получает пух?
- а) От овцы б) От лошади в) От кролика
28. Какая отрасль не относится к растениеводству?
- а) птицеводство б) плодоводство в) полеводство
29. Из семян какого растения делают масло?
- а) просо б) овёс в) подсолнечник
30. Установи соответствие с помощью стрелок (или подпиши букву рядом):
- 1) полеводство А) ирис
 - 2) овощеводство Б) гречиха
 - 3) цветоводство В) крыжовник
 - 4) плодоводство Г) томат
31. Запиши, как называется группа животных, к которой относится толстолобик:
32. Из какого растения делают ткани?
- а) из подсолнечника б) из овса в) из льна
33. Из какого растения получают крахмал?
- а) из льна б) из картофеля в) из подсолнечника
34. О какой природной зоне идет речь?
- В России она занимают совсем небольшую площадь - узкую полосу Черноморского побережья прижатого к воде горами Кавказа. Здесь особое разнообразие растительного и животного мира.
 - Погодные условия в этой ледяной зоне очень суровые. Зимой здесь долгая полярная ночь. Температура понижается до -40°C и ниже, дуют сильные ураганные ветры, часты.
 - Летом круглосуточное освещение, но тепла мало, почва не успевает полностью оттаять. _
 - Климат этой зоны отличается большой сухостью, поэтому земли страдают от недостатка влаги. В связи с плодородием земли здесь находится много пашней и мест для выпаса скота, поэтому из-за этого они страдают. Почвы здесь чернозёмные.

Проверочная работа по теме «Страницы всемирной истории».

1 вариант

1.Продолжи определение:

История – это

2. Как называется эпоха древнейшего человека?

А) история Древнего мира Б) история Средних веков

В) первобытная история

3. Как жили первобытные люди?

А) в одиночку Б) группами В) семьёй

4. На берегах какой реки возник Египет?

А) Нил Б) Лена В) Амазонка

5. Родиной Олимпийских игр является ...

А) Древний Рим Б) Древняя Греция В) Древний Египет

6. Как изображали в Древнем Египте бога солнца? Человек с головой ...

А) птицы (Ра) Б) крокодила (Себек) В) птицы ибиса (Тот)

7. Основателем какой религии был Иисус Христос?

А) буддизм Б) христианство В) ислам

8. В какую эпоху изобрели книгопечатание?

А) Древний мир Б) Средние века В) Новое время

9. Перечислите эпохи развития человечества

1. _____

2. _____

3. _____

4. _____

5. _____.

2 вариант

1.Продолжи определение:

История – это

2. Как называют древнейших людей?

А) первые Б) первобытные В) обезьяноподобные

3. Чем занимались первобытные мужчины?

А) сбором ягод, плодов Б) резьбой по дереву В) охотой

4. Что представляло собой письмо египтян?

А) иероглифы Б) знаки – согласные звуки В) греческое

5. Где находится пирамида Хеопса?

А) Древний Рим Б) Древняя Греция В) Древний Египет

6. Как изображали в Древнем Египте бога мудрости? Человек с головой ...

А) птицы (Ра) Б) крокодила (Себек) В) птицы ибиса (Тот)

7. Основателем какой религии был Мухаммад?

А) буддизм Б) христианство В) ислам

8. С какой эпохой связывают рыцарей?

А) Древний мир Б) Средние века В) Новое время

9. Перечислите эпохи развития человечества

1. _____

2. _____

3. _____

4. _____

5. _____.

Проверочная работа по теме «Страницы истории России».

Задание 1.

Отметь, какое инженерное сооружение появилось в России в конце XIX – начале XX века:

- Искусственный спутник Земли
- Метро в Москве
- Транссибирская магистраль
- Красноярская ГЭС

Задание 2.

Напиши имя выдающегося человека, о котором идет речь в описании:

Родился на севере России в крестьянской семье. Рано полюбил чтение книг и проявил интерес к познанию мира, природы, прошлого людей. Жажда знаний побудила юношу отправиться в Москву. Он учился в высших школах в Москве, Петербурге, а также в Германии. Всю жизнь проработал в Академии наук в Петербурге. Совершил открытия в астрономии, физике, химии, геологии. Прославился как поэт, художник, историк. По предложению этого ученого был открыт университет в Москве.

Задание 3.

Сделайте подписи к изображениям:





Задание 4.

Вспомните великих российских полководцев и их великие победы:

Задание 5.

Помогите М. Ломоносову добраться до Москвы:



Задание 6.

Какой праздник мы отмечаем в честь освобождения ополченцами Москвы от польских захватчиков? Запиши

Задание 7.

Запиши годы Великой Отечественной войны: _____

Проверочная работа по теме «Современная Россия».

Заполни таблицу.

Где я живу

Названия

Страна

Край (область)


Населённый пункт

Улица, номер дома

2.а) Напиши, как называются главные символы государства


б) Отметь V символы Российской Федерации.

96* Напишите, как называются главные символы любого государства. Отметьте ✓ те из них, которые символизируют Российскую Федерацию.



Напишите, какой символ государства вы ещё знаете.

97 Придумайте и нарисуйте герб своей местности. Не забудьте отразить, что это символ части субъекта федерации, где вы живёте.



3) Расставь на контурной карте России цифры, соответствующие названиям географических объектов:

1 Город Москва 2 Река Волга 3 Каспийское море

1

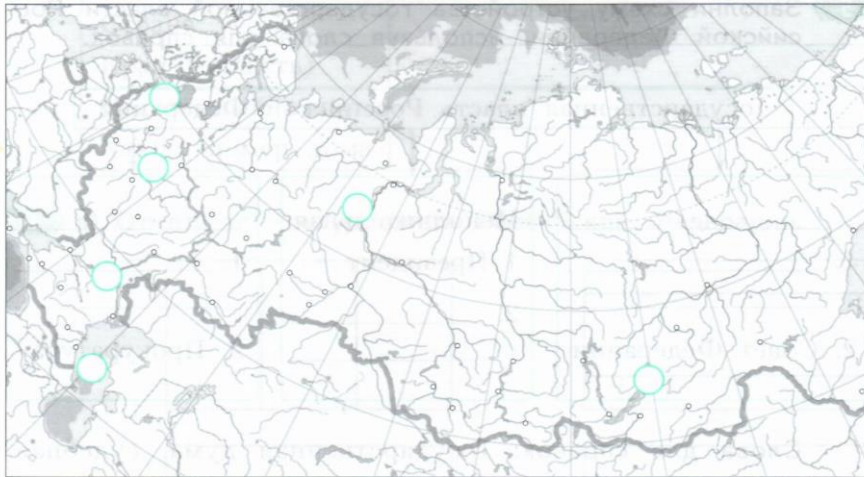
8 Расставь на контурной карте России цифры, соответствующие названиям географических объектов.



- 1 Город Санкт-Петербург.
- 2 Каспийское море.
- 3 Уральские горы.



- 1 Город Москва.
- 2 Озеро Байкал.
- 3 Река Волга.



4) Соедини названия праздников с датами, в которые они отмечаются.

1

9 а) Соедини → названия праздников с датами, в которые они отмечаются.

День народного единства

23 февраля

День защитника Отечества

12 декабря

День космонавтики

4 ноября

День Конституции

12 апреля



б) Раскрась карточку с названием государственного праздника, который считается рабочим днём.

Итоговая контрольная работа

Вариант 1

- Из чего состоит воздух?
 - из смеси жидких и твёрдых веществ.
 - из смеси жидких веществ.
 - из смеси твёрдых веществ.
 - из смеси газов.
- Где самый богатый растительный и животный мир?
 - в полярных поясах
 - на Северном полюсе
 - в умеренных поясах
 - в тропиках
- Что мы называем историческим источником?
 - учебник по истории
 - статьи в газетах, посвящённые историческим событиям
 - всё то, что может рассказать нам о прошлом
 - исторические книги
- Какая природная зона описана в тексте?

Лето тёплое, но зима суровая, преобладают хвойные растения, так как они менее требовательны к теплу. Животный мир разнообразен.

 - тундра
 - пустыня
 - тайга
 - арктическая пустыня
- Самое глубокое озеро России:
 - Ладожское
 - Каспийское
 - Байкал
 - Онежское
- Один из предков Коли родился в 1401г. В каком веке родился родственник мальчика?
 - не купаться в реках
 - поливать огороды водой из рек и озёр
 - уничтожать обитателей водоёмов
 - расчищать берега водоёмов от мусора
- Что должны делать люди для охраны водоёмов?
 - прочность
 - пластичность
 - твёрдость
 - горючесть
- Что является названием отрасли животноводства?
 - цветоводство
 - свиноводство
 - металлургия
 - полеводство
- Иван – петербуржец, а Николай - москвич. А) Напиши, кто из ребят живёт в столице России. Ответ: _____ Б) Напиши, как называется город, в котором он живёт. Ответ: _____
- Какое растение не является луговым?
 - тысячелистник
 - тимофеевка
 - мятлик
 - тростник
- Какое насекомое поедает листья картофеля?
 - колорадский жук
 - божья коровка
 - жужелица
 - тля
- Тебе быстро нужно найти ответ на вопрос: « Как называется равнина, на которой расположен город Москва? Каким из справочником необходимо воспользоваться в этом случае? 1 Схема улиц и площадей Москвы 2. Атлас географических карт 3. Энциклопедия « Природа Азии» 4. Словарь по естествознанию
- Какое название получило решающее сражение Отечественной войны 1812 года?
 - Куликовская битва
 - Ледовое побоище
 - Бородинская битва
 - Ордынское сражение

Вариант 2

1. Какое свойство воздуха позволяет нам видеть вокруг нас всё окружающее??
 - 1) Отсутствие запаха.
 - 2) Прозрачность
 - 3) Упругость.
 - 4) Бесцветность.
2. В воздухе содержатся различные газы, но один из них особенно важен для животных и растений. Все живые существа поглощают этот газ при дыхании. Обведи номер ответа
3. Какая наука узнаёт о прошлом, изучая древние предметы, сооружения?
 - 1) археология 3) астрономия
 - 2) история 4) география
4. О какой природной зоне идет речь в строчке стихотворения?
Южнее полосы лесов лежит ковер из трав, цветов.
 - 1) зона тундры 3) зона степей
 - 2) зона лесов 4) Арктика (Крайний Север)
5. Что называют Каменным поясом земли Русской?
 - 1) Уральские горы 3) Алтай
 - 2) Кавказские горы 4) Русскую равнину
6. Один из предков Миши родился в 1502г. В каком веке родился родственник мальчика?
7. Какое утверждение неверно?
 - 1) Лес - защитник почвы.
 - 2) Лесов так много, что вырубить их все невозможно.
 - 3) Лес очищает воздух.
 - 4) Лес защищает почву от разрушения.
8. Найди правильное и полное определение понятия горизонт.
 - 1) линия 3) видимое вокруг нас пространство
 - 2) линия горизонта 4) всё, что видимо из окна
9. Какое полезное ископаемое используют для изготовления посуды?
 - 1) глину 3) известняк
 - 2) торф 4) гранит
10. Наша страна называется _____, её столица _____
11. В каком озере на территории России находятся самые большие запасы пресной воды в мире?
 - 1) Онежское 3) Ладожское
 - 2) Байкал 4) Белое
12. Выбери верное утверждение о природных условиях в зоне степей. 1. Зона степей расположена севернее зоны лесов, но южнее тундры 2. Зима в зоне степей длится почти полгода, а лето холодное и дождливое. 3. В зоне степей плодородные почвы, и там развито сельское хозяйство. 4. В разгар лета степь покрыта цветущими тюльпанами и ирисами
13. Кого называют продолжателем дел Петра I?
 - 1) Ивана Грозного 3) Александра II
 - 2) Екатерину II 4) Николая II
14. Укажи порядок расположения полос на Государственном флаге Российской Федерации (снизу вверх)
 - 1) красная, белая, синяя 3) белая, синяя, красная
 - 2) синяя, красная, белая 4) белая, красная, синяя